

2024年军队文职人员招聘公共科目

考前冲刺卷一

第一部分 基本知识

一、单项选择题（请根据题目要求，在四个选项中选出一个最恰当的答案。共50题，每题0.5分，共25分。）

1. 党的二十大报告指出，我们要建设具有强大（ ）的社会主义意识形态，牢牢掌握党对意识形态工作领导权。

- A. 凝聚力和领导力
- B. 内聚力和引领力
- C. 内聚力和领导力
- D. 凝聚力和引领力

2. 资本价值构成是（ ）和（ ）构成的数量比例。

- A. 不变资本 可变资本
- B. 固定资本 流动资本
- C. 货币资本 商品资本
- D. 生产资本 可变资本

3. 劳动二重性理论是马克思的重大贡献，劳动二重性主要是指：

- A. 体力劳动和脑力劳动
- B. 具体劳动和抽象劳动
- C. 私人劳动和社会劳动
- D. 简单劳动和复杂劳动

4. （ ）的出版标志着马克思主义政治经济学理论体系的形成。

- A. 《共产党宣言》
- B. 《资本论》
- C. 《国富论》
- D. 《政治经济学批判》

5. 《半月谈》就张哲瀚一事发文，“民族大义面前，一句轻飘飘的‘无知’，不能成为伤害国人感情的借口，更不能以此作为平息舆论风波的工具。”历史不能遗忘，更不容肆意解读。真相需要敬畏，容不得诡辩。任何伤害国人感情的言论及行为都不可原谅。下列事件和日本侵华无关的是：

- A. 渡江战役
- B. 卢沟桥事变
- C. 百团大战
- D. 台儿庄战役

6. () 的国防教育是全国防教育的基础。

- A. 武装力量
- B. 政党
- C. 学校
- D. 军队

7. 根据军队需要，普通高等学校毕业生的征集年龄可以放宽至 () 周岁，研究生的征集年龄可以放宽至 () 周岁。

- A. 22； 24
- B. 24； 24
- C. 22； 26
- D. 24； 26

8. 由于原材料、生产厂商、合作方限制等各方面的因素影响，一双球鞋的产量是无法随意加单的，因此很多球鞋会限量发售，这也是造成“天价鞋”的主要原因。这一现象说明：

- A. 商品的价格决定价值

- B. 价格与价值是相违背的
- C. 供求影响价格
- D. 价值决定价格
9. 经济学中，描述收入分配平等程度的指标是（ ）。
A. 恩格尔系数
B. 失业率
C. 基尼系数
D. 消费者价格指数
10. 井冈山革命根据地的建立，其意义在于：
A. 是土地革命时期开始的标志
B. 开辟了农村包围城市、武装夺取政权的道路
C. 是中国共产党独立领导武装斗争的开端
D. 确定了党对军队的绝对领导
11. 选择不同的运动，其锻炼效果不一样，如果想减肥的话，需要有氧运动和无氧运动相结合起来，这样才能得到想要的锻炼效果。下列运动中，属于无氧运动的是：
A. 打太极拳
B. 步行
C. 骑自行车
D. 举重
12. 2023年7月12日，中方代表在联合国特别会议上发言，呼吁国际社会要将（ ）置于国际议程的优先位置。
A. 粮食生产
B. 难民救济
C. 粮食安全
D. 俄乌冲突调停

13. 1900年6月，意大利《晚邮报》记者巴尔齐尼报道了天津火车站发生的一个事件，我们离他们大约300码，他们的头上裹着红布条，让人联想起一个行进中的法国士兵团。他们的红腰带在阳光下闪耀，大刀在头上挥舞，红缨枪在飞动。该记者报道的事件是：

- A. 黑旗军抗击法国侵略者
- B. 三元里人民痛击英国侵略者
- C. 义和团抗击八国联军
- D. 太平天国抗击洋枪队

14. 习近平总书记在《努力成长为对党和人民忠诚可靠、堪当时代重任的栋梁之才》中指出，（ ）是立党兴党之基，也是党员干部安身立命之本。

- A. 理想信念
- B. 党的纲领
- C. 群众路线
- D. 实事求是

15. 华图兔在参观红色革命纪念展中，发现一幅革命年代的标语——“中国革命斗争的胜利要靠中国同志了解中国情况”，这句话出自于毛泽东同志在1930年所写的：

- A. 《实践论》
- B. 《反对本本主义》
- C. 《论十大关系》
- D. 《湖南农民运动考察报告》

16. 秦朝建立起我国历史上第一个统一的中央集权的封建王朝，秦朝采用的巩固统一的措施中，不包括：

- A. 统一货币，统一度量衡
- B. 实施商鞅变法
- C. 加强思想控制，焚书坑儒
- D. 北击匈奴，修筑长城

17. 下列属于积极的货币政策的是：

- A. 政府扩大投资，加大对于基础设施建设和技术改造等领域的资金投入
- B. 减少税收
- C. 提高基准利率
- D. 降低存款准备金率

18. 资本主义经济危机产生的根源在于：

- A. 私人劳动和社会劳动的矛盾
- B. 生产力和生产关系的矛盾
- C. 生产相对过剩
- D. 生产的社会化与资本主义私人占有形式之间的矛盾

19. 坚持（ ）标准，着眼锻造能打仗、打胜仗的过硬部队，构建完善褒奖激励体系。

- A. 高功重奖
- B. 战斗力
- C. 军民融合
- D. 科技兴军

20. 经国务院、中央军委批准，2023年8月1日起，全国基干民兵和专职人民武装干部将陆续配发启用（ ）式作训服。

- A. 20
- B. 21
- C. 22
- D. 23

21. 在经济学中，（ ）是指由于货币具有使用上的灵活性，人们宁肯以牺牲利息收入而储存不生息的货币来保持财富的心理倾向。

- A. 均衡产出
- B. 流动性偏好
- C. 边际递减效应
- D. 生命周期假说

22. 《晏子春秋》中记载，齐景公将两只桃子送给三位自恃勇猛、不将齐景公放在眼里的猛将。三位猛将为争夺两只桃子，最后均羞愧自杀。关于此故事中的经济学原理，下列说法正确的是：

- A. 成本太高而收益却太少
- B. 稀缺性产生竞争与争夺
- C. 买卖双方的信息不对称
- D. 消费商品数量的不断增加总效用却减少

23. 联合国2022年12月13日在加拿大蒙特利尔举办的《生物多样性公约》第十五次缔约方大会（COP15）第二阶段会议期间宣布，中国入选联合国首批十大“世界生态恢复旗舰项目”的是：

- A. 中国山水工程
- B. 中国林业工程
- C. 中国园林工程
- D. 中国生态工程

24. 公民道德建设的核心是（ ）。

- A. 为人民服务
- B. 集体主义
- C. 社会公德
- D. 爱国主义

25. 1845年，马克思、恩格斯一起撰写了（ ），第一次比较系统地阐述了历史唯物主义基本原理。

- A. 《德意志意识形态》
- B. 《家庭、私有制和国家的起源》
- C. 《反杜林论》
- D. 《共产党宣言》

26. 根据我国现在的法律规定，下列年龄能够达到法定婚龄的是：

- A. 舞勺之年
- B. 豆蔻年华
- C. 花信年华
- D. 及笄之年

27. 根据不同标准可以对法做不同的分类。下列分类表述不正确的是：

- A. 按照法的内容分为实体法和程序法
- B. 按照法的效力强弱分为宪法性法律和普通法律
- C. 按照法的创立和表现形式分为固有法和继受法
- D. 按照法的效力范围分为特殊法和一般法

28. 列宁认为，（ ）是过渡的资本主义，表明从资本主义向社会主义过渡的条件日益成熟。

- A. 封建主义
- B. 社会主义初级阶段
- C. 帝国主义
- D. 共产主义

29. 近代中国的社会性质和主要矛盾，决定了中国需要的革命是：

- A. 资产阶级民主革命
- B. 社会主义革命
- C. 自我革命
- D. 改革开放

30. 根据《中国人民解放军文职人员条例》的规定，以下不属于文职人员招录聘用方式的是（ ）。

- A. 公开招考
- B. 直接引进
- C. 内部产生

D. 专项招录

31. 非物质文化遗产是中华优秀传统文化的重要组成部分，是中华文明绵延传承的生动见证，是连结民族情感、维系国家统一的重要基础。如果小张生活在宋代，不能见到的非物质文化遗产是：

- A. 古琴艺术
- B. 京剧
- C. 中国剪纸
- D. 端午节

32. 毛泽东诗词“雄关漫道真如铁，而今迈步从头越”反映的历史事件是：

- A. 延安整风运动
- B. 广州起义
- C. 红军长征
- D. 秋收起义

33. 原子弹或核能发电厂的能量来源是（ ）产生的。

- A. 核裂变
- B. 核聚变
- C. 核衰变
- D. 太阳风暴

34. 经济学中区分私人物品与公共物品的标准是私人物品具有排他性和竞争性，而公共物品具有非排他性和非竞争性。下列选项中属于公共用品的是：

- A. 超市售卖的苹果
- B. 公路上的限速标识
- C. 政府免费发放的消费券
- D. 公立医院提供的药品

35. 2022年11月10日，第二批“国际湿地城市”颁证仪式在《湿地公约》第十四届缔约

方大会日内瓦分会场举办，中国有7个城市获颁“国际湿地城市”认证证书，以下不属于这7个城市的是：

- A. 山东济宁
- B. 安徽合肥
- C. 湖北武汉
- D. 江苏无锡

36. 对毛泽东和毛泽东思想的历史地位作了新的马克思主义的实事求是评价的是党的十一届六中全会通过的（ ）。

- A. 《关于若干历史问题的决议》
- B. 《论联合政府》
- C. 《关于建国以来党的若干历史问题的决议》
- D. 《新民主主义论》

37. 很多情侣刚在一起时如胶似漆甜甜蜜蜜，然而随着陪伴时间的增加，两人之间的好感度反而会渐渐降低。这一现象符合经济学中的（ ）规律。

- A. 凡勃伦效应
- B. 口红效应
- C. 棘轮效应
- D. 边际效用递减

38. 郑某知道酒后驾驶违法甚至可能触犯刑法，在聚餐喝酒后没有开车回家，选择和朋友把车子推回去。郑某的行为虽然看似荒唐却体现了法的：

- A. 预测作用
- B. 指引作用
- C. 评价作用
- D. 教育作用

39. 1937年8月25日，中共中央革命军事委员会主席毛泽东，副主席朱德、周恩来发出关于红军改编为（ ）的命令。

- A. 国民革命军陆军新编第四军
- B. 国民革命军第八路军
- C. 国民革命军第十八集团军
- D. 中国人民解放军

40. 市场机制作用得到充分发挥的前提是（ ）。

- A. 政府放弃宏观控制
- B. 政府加强宏观调控
- C. 完备、统一的市场体系
- D. 计划与市场相结合

41. 党的二十大报告指出，广泛践行社会主义核心价值观，弘扬以伟大（ ）为源头的中国共产党人精神谱系。

- A. 爱国精神
- B. 建党精神
- C. 奋斗精神
- D. 民族精神

42. 王五将自家的耕牛租给李六使用一个月，一周之后李六提出花5000元买下这头牛，王五表示同意。则该耕牛的交付属于：

- A. 现实交付
- B. 指示交付
- C. 简易交付
- D. 占有改定

43. 2021年8月11日，辽宁省丹东市中级人民法院依法对加拿大籍被告人迈克尔·斯帕弗为境外刺探、非法提供国家秘密一案公开宣判，认定其犯为境外刺探、非法提供国家秘密罪，判处有期徒刑十一年，并处没收个人财产人民币五万元，驱逐出境。该案件体现出我国法律效力的原则是：

- A. 属人主义

- B. 属地主义
- C. 保护主义
- D. 普遍主义

44. 科学社会主义的核心是（ ）。

- A. 无产阶级革命理论
- B. 无产阶级政党理论
- C. “两个必然”和“两个决不会”思想
- D. 对未来社会的预测和设想

45. （ ），中国工农红军三大主力部队在甘肃会宁胜利会师。

- A. 1935年7月
- B. 1935年10月
- C. 1936年7月
- D. 1936年10月

46. 在国际关系领域中，被称为国际关系的“铁律”的是：

- A. 修昔底德陷阱
- B. 中等收入陷阱
- C. 塔西佗陷阱
- D. 拉美陷阱

47. 根据我国宪法的规定，下列属于国务院依法行使职权的是：

- A. 决定特赦
- B. 对最高人民检察院的工作进行监督
- C. 决定吉林省省长的任免
- D. 批准省、自治区、直辖市的区域划分

48. 秦岭—淮河线是我国一条重要的地理分界线，地理意义极其重要。下列说法正确的是：

- A. 是我国季风区与非季风区的分界线
- B. 是湿润与半湿润区的分界线
- C. 是我国12月份0℃等温线
- D. 大致是400mm等降水量线经过的地方

49. 义务兵和军士入伍前是机关、团体、事业单位或者国有企业工作人员的，退出现役后可以选择：

- A. 工龄重计
- B. 复工复职
- C. 职务重新分配
- D. 职务重新计算

50. 一日，赵某驾驶机动车在某某线20公里处被某县公安交通警察大队查获。某县公安交通警察大队因赵某某实施使用其他车辆机动车号牌的违法行为，根据《中华人民共和国道路交通安全法》，对赵某作出扣留机动车的：

- A. 行政处罚
- B. 行政许可
- C. 行政强制执行
- D. 行政强制措施

二、多项选择题（请根据题目要求，在五个选项中选出两个或两个以上恰当的答案，错选或多选均不得分，少选且选择正确的每个选项得0.3分。共6题，每题1.5分，共9分。）

51. 根据《劳动合同法》的规定，劳动者有下列哪些情形时，用人单位可以依法解除劳动合同？（ ）

- A. 在试用期间被证明不符合录用条件的
- B. 被依法追究刑事责任的
- C. 用人单位决定提前解散的
- D. 严重失职、营私舞弊，对用人单位利益造成重大损害的
- E. 被人民法院宣告死亡或者宣告失踪的

52. 影响居民消费结构变动的有（ ）等因素。

- A. 居民收入水平
- B. 价格
- C. 商品
- D. 社会总需求
- E. 社会对消费行为的引导

53. 习近平主席在中央军委军事训练会议上强调，全面加强实战化军事训练，全面提高训练水平和打赢能力。下列说法错误的是：

- A. 坚持实战实训、联战联训、科技强训、依法治训
- B. 抓好科技提升是全军共同的责任
- C. 加强战略谋划和基层建设，扎实推进军事训练转型
- D. 军事训练是生成和提高战斗力的基本途径
- E. 强化改革创新，加快构建新型军事训练体系

54. 根据《中华人民共和国民法典》之规定，有（ ）情形之一的，婚姻无效。

- A. 未达到法定婚龄
- B. 重婚
- C. 有禁止结婚的亲属关系
- D. 有医学上认为不应当结婚的疾病
- E. 婚内出轨

55. 习近平总书记指出，学好“四史” 永葆初心、永担使命。以下属于“四史”的是（ ）。

- A. 中共党史
- B. 新中国史
- C. 中国特色史
- D. 改革开放史
- E. 社会主义发展史

56. 下列与“射人先射马，擒贼先擒王”体现的哲学道理一致的是（ ）。

- A. “牵牛要牵牛鼻子”
- B. “天下虽安，忘战必危”
- C. “举网以纲，千目皆张”
- D. “一屋不扫，何以扫天下”
- E. 知屋漏者在宇下，知政失者在草野

三、系列单项选择题（请根据题目要求，在四个选项中选出一个最恰当的答案。共4题，每题1.5分，共6分。）

【资料】

2022年10月16日—22日召开的中国共产党第二十次全国代表大会指出，实现建军一百年奋斗目标，开创国防和军队现代化新局面。如期实现建军一百年奋斗目标，加快把人民军队建成世界一流军队，是全面建设社会主义现代化国家的战略要求。

57. 二十大要求实现建军一百年奋斗目标，我国人民军队建立始于：

- A. 1921年 上海
- B. 1927年 南昌
- C. 1927年 永新
- D. 1929年 古田

58. （ ）第一次以决议的形式规定了我军的性质、宗旨和任务：“中国的红军是一个执行革命的政治任务的武装集团。”

- A. 八七会议
- B. 古田会议
- C. 遵义会议
- D. 瓦窑堡会议

【资料】

生物多样性是人类赖以生存和发展的基础，是地球生命共同体的血脉和根基。山川河流、万千草木、珍禽异兽，都展现着我们丰富的生物多样性之美。

59. 下列不属于生物多样性组成部分的是（ ）。

- A. 环境多样性
- B. 遗传多样性
- C. 生态系统多样性
- D. 物种多样性

60. 被誉为“地球之肾”的（ ）是地球上生物多样性丰富和生产力较高的生态系统。

- A. 湿地
- B. 天然林
- C. 土地
- D. 湖泊

第二部分 岗位能力

一、言语理解（请根据题目要求，在四个选项中选出一个最恰当的答案。共15题，每题1分，共15分。）

61. “医保大数据监管让基层医疗机构能及时发现不规范问题并有效纠正。”拱墅区医保中心相关负责人表示，综合运用大数据分析、审核技术，帮助监管部门快速_____、精确_____医保基金使用过程中的违法违规问题，提高了线索发现、追溯取证、证据固定等针对违法行为的查处能力。

依次填入画横线部分最恰当的一项是：

- A. 筛查 锁定
- B. 检查 确定
- C. 筛检 预定

D. 检验 判定

62. 下列选项中没有错别字的一项是：

A. 弊病 提纲 沧桑 脉膊

B. 贡献 迥然 诋毁 穿插

C. 默契 文湊 掠夺 赏罚

D. 姑息 急躁 作祟 气概

63. 对下列各句修辞手法判断不正确的一项是（ ）。

A. “这个手术我来给你做，希望你能配合。”话语轻柔得像一团云，一团雾。不，像一团松软的棉球，轻轻地擦着疼痛的伤口。（比喻）

B. 泰坦尼克号发出“刺啦”的撕裂声，犹如黑夜中的悲鸣。（拟人）

C. 飞流直下三千尺，疑是银河落九天。（对偶）

D. 两岸青山相对出，孤帆一片日边来。（借代）

64. 这些_____的星系是如何被发现的？由于宇宙在膨胀，离地球越远的星系相对地球而言退行速度就越快，导致其辐射的光被_____到时会产生明显的红移，即波长会比原本更长。红移为1代表着波长变长1倍，红移越大表示距离越远。天文学家可依此_____出星系的距离，以及观测信号产生时宇宙所处的年龄。

填入横线处的词语最恰当的一项是：

A. 遥远 观测 计算

B. 艰辛 观察 估摸

C. 艰险 测算 谋划

D. 荆棘 测查 盘算

65. 下列选项中没有语病的一项是：

A. 我不但信任他，而且以前反对过他的人，现在也信任他了。

B. 多年来曾被计划经济思想束缚下的人们也觉悟起来了。

C. 犯罪分子的阴谋活动是应当加以揭露的，而且能够把它揭露的。

D. 花城文艺出版社出版的《慰藉》，作者是一位蛰居海外二十多年的美籍华裔作家。

66. 下列各组词语中，加横线的字读音完全不同的一组是：

A. 和颜悦色 一唱百和 阖家欢乐 鹤立鸡群

B. 少不更事 三更半夜 残羹冷炙 年庚日甲

C. 间不容发 百发百中 罪不当罚 法不容情

D. 不着边际 穿红着绿 歪打正着 棋差一着

67. 下列选项中标点符号使用正确的一项是：

A. 到底去还是不去？我的小姑娘奶奶。

B. 我们班的同学来自全国各地，有辽宁的、浙江的、山东的、贵州的……等。

C. 今天去呢？还是明天去呢？他实在拿不定主意了。

D. “一年之计在于春”，刚起头儿，有的是工夫，有的是希望。

68. ①该实验的主要科学目标是挖掘空间辐射损伤评估和风险预警的生物标志物，分析空间辐射损伤的品质因子

②在“空间辐射暴露引起线虫发育过程DNA损伤修复及细胞凋亡影响研究”实验项目中，一个装载着4种线虫的线虫芯片实验盒被带上太空

③生物实验的“常驻嘉宾”、科学家最喜欢的模式植物——拟南芥也随着神舟十六号再度飞上太空

④在“空间辐射损伤评估科学与应用关键技术”实验项目中，线虫也是“主角”

⑤科研人员将利用野生型、3种突变体和转基因拟南芥，开展空间微重力环境调控植物细胞结构和功能的分子网络研究

⑥科研人员将利用全自动微流控系统对线虫个体的在轨发育和损伤效应进行观测

将以上6个句子重新排列，语序正确的是：

A. ②⑥①④⑤③

B. ②⑥④①③⑤

C. ④⑥①②⑤③

D. ④②⑥①⑤③

69. 下列选项中没有歧义的一项是：

A. 这两个医学院的学生不仅敢救，而且会救，不仅勇为，而且智为。

B. 少数老年人对智能电子产品的熟练使用，不能成为其他老年人也该如此的证据，他们需要被改变。

C. 多数商户用硫磺熏制八角是受利益驱使，主要是为了降低成本、增加色泽、防止腐烂。

D. 为了子孙后代的幸福安康，耕地红线是我们必须严防死守的底线，这也是我们的原则。

70. “_____实现建军一百年奋斗目标，把人民军队建成世界一流军队，是全面建设社会主义现代化国家的战略要求。”讨论中，代表们认为，党的二十大报告丰富拓展了党在新时代的强军目标的时代内涵，_____标定了未来五年我军建设的中心任务，是党的意志、

人民的期盼，是人民军队必须扛起的时代重任、交出的历史答卷。

填入横线部分最恰当的一项是：

- A. 加快 清晰
- B. 加速 明确
- C. 如期 鲜明
- D. 按时 确切

71. 下列句中，“于”的意义和用法与其他三项不同的一项是：

- A. 然余居于此
- B. 鸡栖于厅
- C. 室西连于中闺
- D. 而母立于兹

72. 备受关注的长沙“车位被霸停直接焊死”事件，迎来了大结局。此事因车位而起，反思点也可从一个“位”字入手。每个人都应找准位置，不能错位。占了人家的车位，影响人家停车，不妨赶紧挪走，表示歉意。如果说一些不中听的话，就属于没有摆正位置，既伤害了当事人的权益，也容易引发舆论批评。被占的一方，以后也有可能因种种原因占别人的车位。多一些换位思考，多一些得饶人处且饶人，处理问题就会更温和。无论从哪个角度看，此事都不应演绎为一场互撕事件。

作者可能赞同下列哪一观点：

- A. “霸停”事件的过错完全在强占车位的一方
- B. “霸停”事件的双方应换位思考避免产生纠纷
- C. 被占车位一方是受害者，焊死车位的做法情有可原
- D. 新闻媒体对此次事件的报道缺乏正确的舆论引导

73. 丽江位于云南西北部、滇川藏交汇处，有汉、纳西、彝、傈僳等48个民族，少数民族人口占总人口的56.44%。丽江多民族聚居、多元文化共融，各民族血脉相连、经济相依、文化相融、守望相助、和睦共存，像石榴籽一样紧紧抱在一起。自1994年滇西北旅游规划会议召开以来，丽江依托丰富的人文自然资源，从名不见经传的西南边陲小镇发展成为国际知名旅游城市。改革开放40多年来，丽江利用自身的多民族文化优势，铸就了旅游的辉煌，推动了各民族的交往交流交融，促进了民族文化的传承与发展。

最适合这段文字标题的一项是：

- A. 像石榴籽一样的丽江

- B. 丽江造就旅游辉煌
- C. 旅游推动文化传承
- D. 丽江：旅游浇灌民族团结之花

74. 有的放矢，不枉不纵，才能维护问责的权威性和公信力，让广大干部在新时代新征程中奋勇拼搏。加强日常监督和警示教育活动，对干部在工作中出现的推拖绕式“躺平”、偷奸耍滑式“躺平”、担心问责式“躺平”和未老先衰式“躺平”等问题，采用谈话、函询等方式及时咬耳扯袖，做到早发现、早提醒、早纠正，防止小问题演变成大问题。对于不珍惜岗位、不愿作为的干部，绝不能听之任之，要充分运用监督作用，准确界定职责范围，把“板子”打到具体人身上，该调整的及时调整，该问责的坚决问责，不搞“避重就轻”式问责。

这段文字旨在说明：

- A. 对躺平式干部应以精准问责推动责任落实
- B. 务必坚持强化维护问责的权威性和公信力
- C. 对于一些不愿作为的干部绝不能听之任之
- D. 治理躺平式干部要加强监督警示教育活动

75. 下列句子中划线成语使用不恰当的一项是（ ）。

- A. 家用电器的降价刺激了居民的消费欲，原本滞销的冰箱，一下子成了炙手可热的商品。
- B. 她从小就有高人一等的优越感，总是颐指气使，盛气凌人。
- C. 电影中有几处看起来是闲笔，实际上是匠心独运。
- D. 我只是从小去过海南，所以对那里的印象只是浮光掠影。

二、数量关系（请根据题目要求，在四个选项中选出一个最恰当的答案。共10题，每题1.5分，共15分。）

76. 某公司组织团建活动，每一位男同事付100元，每一位女同事付70元，每带一个家属付48元，现在有 $\frac{1}{4}$ 的同事各带一个家属，总共收了2000元，问：这个活动共有多少人参加？

- A. 35
- B. 25
- C. 46

D. 15

77. 1, 3, 8, 19, 42, ()

A. 78

B. 96

C. 89

D. 85

78. 一条直线型跑道，小张先从起点出发走向终点，1分钟后小李再出发同样从起点走向终点，再1分钟后小王开始沿着跑道从终点走向起点，再过3分钟，此时小张到达终点，并且小李和小王二人相遇。三人均为匀速运动，且小张的速度是小李的1.25倍，保持同样的速度，小张和小王从学校走到科技馆，小张需要1小时，则小王需要多长时间？

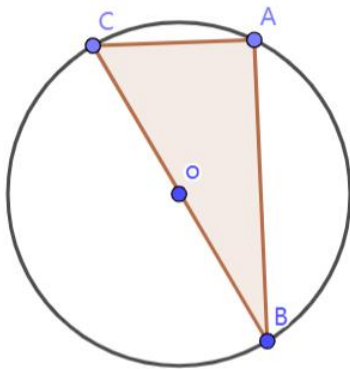
A. 2小时

B. 1小时40分钟

C. 1小时30分钟

D. 1小时20分钟

79. 如图一圆形舞台（圆心为O）中有一块三角形区域ABC，A、B、C均为圆上的点，且AC=OC，一舞蹈演员（速度恒定）沿圆形舞台边缘从A到C与沿圆形舞台边缘从A到B（均取最短路径）的时间比是多少？



A. 1 : 4

B. 1 : 3

C. 1 : 2.5

D. 1 : 2

80. 某皮革工厂对10件样品进行检验，样品中可能存在次品，从中抽取2件检查，若抽取的样品中只有一件次品的概率为 $\frac{16}{45}$ ，且该10件样品的次品率不超过40%，则这10件产品

的次品数有（ ）件。

A. 1

B. 2

C. 6

D. 8

81. 某公司有员工50人，现统计员工持有资格证书情况，发现持有教师资格证书的有33人，持有人力资源证书的有30人，持有初级会计资格证书的有26人，有5名员工三种证书都没有，若持有两种证书与持有三种证书的员工数量之比为5：3，则只持有一种证书的员工有（ ）人。

A. 10

B. 13

C. 17

D. 21

82. 小王从甲、乙两个鱼塘内分别捞出25%、40%的鱼苗，已知从甲中打捞出鱼苗比乙多40条，再将甲鱼塘余下鱼苗的26%放入乙鱼塘内，此时甲、乙鱼苗数目刚好相等。问最初甲、乙鱼塘内鱼苗数相差多少？

A. 1400

B. 1600

C. 1800

D. 2000

83. 十一期间，小李和小张计划出游。小李去上海游玩的概率为40%，若去上海，则去苏州的概率为80%，反之概率为50%；小张去南京的概率为30%，去苏州的概率为60%。则小李和小张都去苏州游玩的概率为：

A. 24%

B. 37.2%

C. 49.2%

D. 52%

84. 在某自然课上，老师让小朋友用底面直径为6厘米，高为4厘米的圆锥形容器，向底面直径10，高8厘米的烧杯中倒入液体，问至少倒入多少次才能装满整个烧杯：

A. 13次

- B. 15次
- C. 17次
- D. 19次

85. 有一个项目，甲单独完成需要8天，乙单独完成需要12天，丙单独完成需要15天，现在三人合作来完成这个项目，由于甲干了几天后临时被调去参与另一个项目，结果用时5天才完成，则甲调走后，乙、丙两人又共同工作了几天？

- A. 5天
- B. 4天
- C. 3天
- D. 2天

三、判断推理（请根据题目要求，在四个选项中选出一个最恰当的答案。共10题，每题1.5分，共15分。）

86. 甲乙丙丁戊五人围绕着一个圆桌开展会议，五个座位并不按序号排列。已知：

- (1) 乙在2号位置并且在丙的左边与其相邻；
- (2) 戊在2号位置右边第二个；
- (3) 4号在乙的左手边第一个；
- (4) 丁在5号位置的右手边第三个；
- (5) 3号位置在丁的左手边第二个。

那么甲坐在几号位置：

- A. 1号
- B. 3号
- C. 4号
- D. 5号

87. 下午小张，小王，小李一起去学院的教室一、教室二、教室三上逻辑学、经济学、历史学（并非一一对应），已知一天中每个人上不同课程，且教室一到三是按顺序排布的。

以下是三人在上课路上的对话：

小张：上午的逻辑课真难啊！

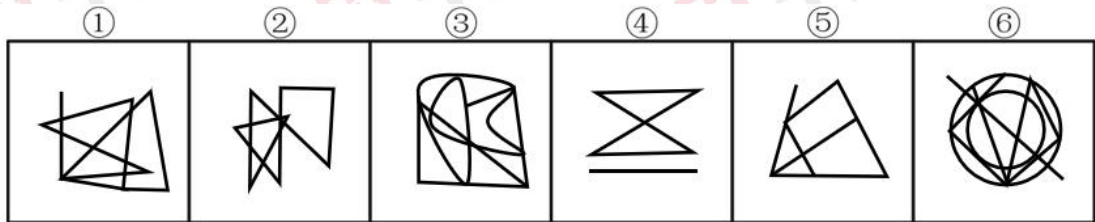
小李：是吗？那我等会可得认真听。诶小王，你走错啦，我这教室一不上历史课。

小王：啊，我要去隔壁教室。

据此，可以推出哪项？

- A. 小张在教室二上经济学
- B. 小王在教室一上逻辑学
- C. 小李在教室一上逻辑学
- D. 小张在教室三上历史学

88. 把下面的六个图形分为两类，使每一类图形都有各自的共同特征或规律，分类正确的一项是：



- A. ①②③, ④⑤⑥
- B. ①③⑥, ②④⑤
- C. ②③④, ①⑤⑥
- D. ①③⑤, ②④⑥

89. 小王这个夏天如果去健身，就要学两个项目空中瑜伽和拳击；只有和小于一起去健身，小王才会学空中瑜伽或游泳；如果和小于一起健身，小王一定要和小于提前约定好；如果小王和小于提前约定好，则小于这个夏天一定要空出时间。遗憾的是，这个夏天小于工作忙的焦头烂额，小于空不出时间去健身。

由此可以推出：

- A. 小王这个夏天学游泳
- B. 小王这个夏天学空中瑜伽
- C. 小王这个夏天学拳击
- D. 小王这个夏天没去健身

90. 李明设计了一个课表，准备用于预习语数英物化生政七门课程，课表每周固定不变，

每天只预习一门课程。第二周周一时，好朋友张良来找他学习，他的预习顺序安排如下：

- (1) 预习英语与预习物理相隔了两天，我今天刚预习了英语
- (2) 预习化学与预习物理相隔一天
- (3) 政治和物理隔两天，且紧挨化学之前
- (4) 数学和语文紧挨着，且数学在前

下列选项，正确的是：

- A. 化学在周天
- B. 物理在周四
- C. 政治在周三
- D. 数学在周六

91. 文言文和现代汉语有很多相通的字词，但相通的字词含义应当是相近的。例如，表示擒获的意思，“禽”是古字，“擒”是今字，这两个字含义是相近的。由此看来，古今把“才”、“材”相通实在是一种误用，应当加以纠正，因为“材”在现代汉语中的初始含义是“木料”、“原材料”，和“才能”丝毫不相及。

以下哪项是题干的论证所必须假设的？

- A. 一个词的初始含义是该词唯一确切的含义
- B. 除了“材”以外，在现代汉语中不存在其他的词具有不相关的多种含义
- C. 语词的多义将造成思想交流的困难
- D. 现代汉语比文言文更容易产生语词歧义

92. 在五千多年漫长文明发展史中，中国人民创造的中华文明绵延传承至今从未中断，为人类文明进步事业做出了重大贡献。中华文明突出的连续性，从根本上决定了中华民族必然走自己的路。如果不从源远流长的历史连续性来认识中国，就不可能理解古代中国，也不可能理解现代中国，更不可能理解未来中国。不忘本来才能开辟未来。善于把弘扬优秀传统文化和发展现实文化有机统一起来，紧密结合起来，才能在继承中发展、在发展中继承。

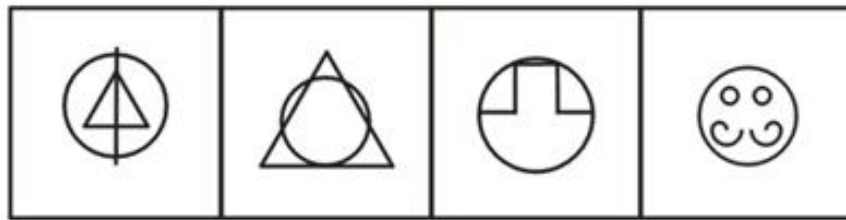
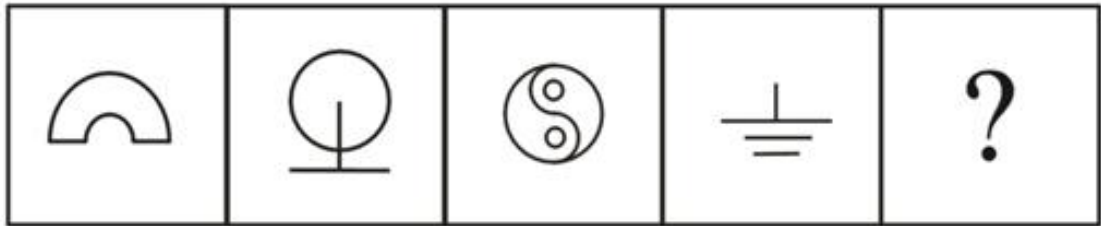
由此可以推出：

- A. 除非理解古代中国，否则不可能理解未来中国
- B. 开辟未来的充分条件是不忘本来
- C. 想要把弘扬优秀传统文化和发展现实文化有机统一起来，必须继承中发展、在发展中

继承

D. 或者无法在继承中发展、在发展中继承，或者善于把弘扬优秀传统文化和发展现实文化有机统一起来，紧密结合起来

93. 选择最合适的一项填入问号处，使之呈现一定的规律性：



A

B

C

D

A. 如上图所示

B. 如上图所示

C. 如上图所示

D. 如上图所示

94. 甲、乙、丙、丁4人，一人是教师，一人是医生，一人是公务员，一人是歌手。现已知：（1）甲的和公务员的籍贯不同；（2）乙比歌手的年龄小；（3）乙和公务员来自相同城市；（4）除非丙是医生，否则乙是公务员。

根据以上的信息，以下说法正确的是：

A. 甲和丁的籍贯相同

B. 教师年龄最大

C. 丁是公务员

D. 医生比歌手的年龄大

95. 某宿舍五位同学暑期准备去实习，每位同学只能选择一个地方。并且满足以下条件：

- (1) 如果小李去北京，那么小郭不去重庆；
- (2) 小罗和小李至少一个去北京；
- (3) 如果小郭不去重庆，那么小蒋不去济南；
- (4) 或者小蒋去济南，或者小宝不去南宁。

以下哪项如果为真，可以得出“小罗去北京”的结论？

- A. 小郭不去重庆
- B. 小李去北京
- C. 小宝去南宁
- D. 小蒋不去济南

四、资料分析（请根据题目要求，在四个选项中选出一个最恰当的答案。共15题，每题1分，共15分。）

材料一：2023年3月，汽车产销分别完成258.4万辆和245.1万辆，环比分别增长27.2%和24%，同比分别增长15.3%和9.7%。2023年1—3月，汽车产销分别完成621万辆和607.6万辆，同比分别下降4.3%和6.7%。

2023年3月，乘用车产销分别完成214.9万辆和201.7万辆，环比分别增长25.3%和22%，同比分别增长14.3%和8.2%。2023年1—3月，乘用车产销分别完成526.2万辆和513.8万辆，同比分别下降4.3%和7.3%。

2023年3月，商用车产销均完成43.4万辆，环比分别增长37.1%和34.2%，同比分别增长20.4%和17.4%。2023年1—3月，商用车产销分别完成94.8万辆和93.8万辆，同比分别下降3.9%和2.9%。

2023年3月，新能源汽车产销分别完成67.4万辆和65.3万辆，环比分别增长22%和24.4%，同比分别增长44.8%和34.8%。2023年1—3月，新能源汽车产销分别完成165万辆和158.6万辆，同比分别增长27.7%和26.2%，市场占有率达到26.1%。

2023年3月，中国品牌乘用车销售105.2万辆，环比增长20.4%，同比增长16.4%，占乘用车销售总量的52.1%，占有率较上月减少0.7个百分点，比上年同期提升3.7个百分点。2023年1—3月，中国品牌乘用车销售268.3万辆，同比增长5.3%，占乘用车销售总量的52.2%，占有率比上年同期提升6.3个百分点。

2023年3月，中国品牌轿车、SUV和MPV市场占有率分别为42.9%、58.6%和64.4%，与上月

相比，中国品牌SUV市场占有率微降，中国品牌轿车和MPV市场占有率呈小幅增长；与上年同期相比，中国品牌轿车、SUV和MPV市场占有率均呈不同程度增长。2023年1—3月，中国品牌轿车、SUV和MPV市场占有率分别为41.5%、60.1%和60%，与上年同期相比，中国品牌轿车、SUV和MPV市场占有率均呈小幅增长。

96. 2022年1—2月汽车销量月均约（ ）万辆。

- A. 427
- B. 315
- C. 288
- D. 214

97. 2023年2月新能源汽车产量比2022年3月增长约：

- A. 14.2%
- B. 18.7%
- C. 24.6%
- D. 28.9%

98. 下列选项中，2023年1—3月与上一年同期相比增长的最多的是：

- A. 乘用车产量
- B. 乘用车销量
- C. 商用车产量
- D. 商用车销量

材料二：2022年福建省货物进出口总额19828.55亿元，比上年增长7.6%。其中，出口额12140.53亿元；进口额7688.02亿元，增长0.9%。

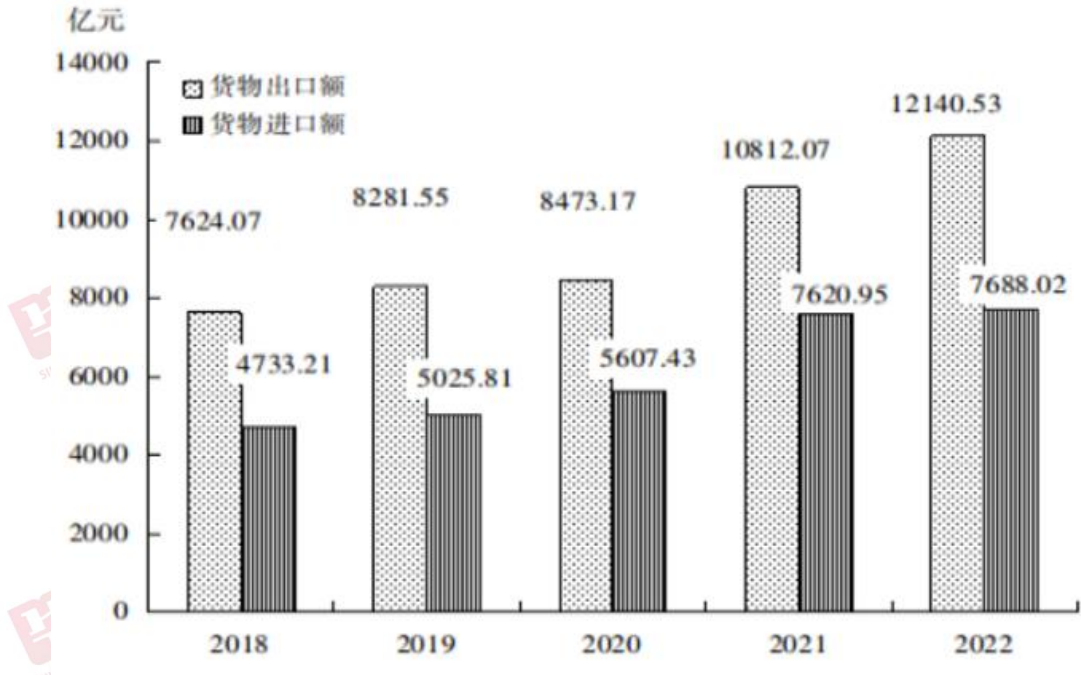


图 2018—2022年福建省货物进出口总额

全年福建省新设外商投资企业 2733 家，比上年下降 0.3%。实际使用外资金额 49.9 亿美元，增长 1.8%。全年新备案（核准）境外投资企业和分支机构 173 个，比上年增长 10.9%。实际对外投资额 18.6 亿美元，下降 7.9%。全年对外承包工程完成营业额 11.7 亿美元，下降 32.8%；对外劳务合作派出劳务人员 45545 人次，下降 3.3%。

表 2022 年福建省对主要国家和地区进出口情况

国家和地区	出口额 (亿元)	比上年 增长(%)	进口额 (亿元)	比上年 增长(%)
美国	2136.40	14.3	494.85	17.9
欧盟	2100.31	27.6	365.76	-12.9
东盟	2630.27	13.9	1596.35	10.5
日本	527.84	0.02	298.59	-8.6
香港地区	475.70	1.3	19.13	111.7
台湾地区	635.85	22.9	400.85	-24.3
韩国	422.04	12.5	194.68	-19.0
沙特阿拉伯	120.58	3.7	512.83	19.8

注：欧盟不含英国。

99. 2022 年福建省货物进出口顺差比 2019 年：

- A. 多 1561.65 亿元
- B. 多 1196.77 亿元

C. 少 1561.65 亿元

D. 少 1196.77 亿元

100. 2022 年福建省对美国、欧盟、东盟、日本进出口总额同比增长的有:

A. 4 个

B. 3 个

C. 2 个

D. 1 个

101. 2022 年福建省货物进口额占货物进出口总额的比重比 2018 年:

A. 高 0.47 个百分点

B. 高 4.7 个百分点

C. 低 0.47 个百分点

D. 低 4.7 个百分点

102. 2022 年福建省对东盟进口额同比增量比沙特阿拉伯约多 () 倍。

A. 2.1

B. 1.8

C. 1.3

D. 0.8

材料三:2022 年,全国工业增加值 401644 亿元,比上年增长 3.4%,占 GDP 比重达 33.2%,比制造业高 5.5 个百分点。

2022 年,规模以上工业增加值增长 3.6%。其中,农副食品加工业增加值比上年增长 0.7%,纺织业下降 2.7%,化学原料和化学制品制造业增长 6.6%,非金属矿物制品业下降 1.5%,黑色金属冶炼和压延加工业增长 1.2%,通用设备制造业下降 1.2%,专用设备制造业增长 3.6%,汽车制造业增长 6.3%,电气机械和器材制造业增长 11.9%,计算机、通信和其他电子设备制造业增长 7.6%,电力、热力生产和供应业增长 5.1%。

2022 年,规模以上工业企业利润 84039 亿元。分经济类型看,国有控股企业利润 23792 亿元,比上年增长 3.0%;股份制企业 61611 亿元,下降 2.7%,外商及港澳台商投资企业 20040 亿元,下降 9.5%;私营企业 26638 亿元,下降 7.2%。分门类看,采矿业利润 15574 亿元,比上年增长 48.6%;制造业 64150 亿元,下降 13.4%;电力、热力、燃气及水生产和供应业 4315 亿元,增长 41.8%。全年规模以上工业企业每百元营业收入中的成本为 84.72 元,比上年增加 0.91 元;营业收入利润率为 6.09%,下降 0.64 个百分点。年末规模以上工业企业资

产负债率为 56.6%，比上年末上升 0.3 个百分点。全年全国工业产能利用率为 75.6%。

2022 年，建筑业增加值 83383 亿元，比上年增长 5.5%。全国具有资质等级的总承包和专业承包建筑业企业利润 8369 亿元，比上年下降 1.2%，其中国有控股企业 3922 亿元，增长 8.4%。

103. 2022 年，在规模以上工业中，以下行业的增加值同比变化率最小的是（ ）。

- A. 纺织业
- B. 黑色金属冶炼和压延加工业
- C. 通用设备制造业
- D. 农副食品加工业

104. 2022 年，我国制造业增加值约为（ ）万亿元。

- A. 38.2
- B. 33.5
- C. 30.2
- D. 25.5

105. 2022 年，全国规模以上工业企业的总成本约为（ ）万亿元。

- A. 98.2
- B. 106.2
- C. 116.9
- D. 122.0

106. 2022 年，全国具有资质等级的总承包和专业承包建筑业企业利润中，非国有控股企业利润比上年（ ）。

- A. 增长 1.2%
- B. 下降 3.8%
- C. 下降 8.4%
- D. 下降 11.8%

材料四：

表1 2023年1—3月份东中西部和东北地区房地产开发投资情况

地区	投资额 (亿元)	同比增长 (%)		
		住宅		住宅
全国总计	25974	19767	-5.8	-4.1
东部地区	15222	11241	-3.4	-1.4
中部地区	5373	4385	-6.3	-4.8
西部地区	4937	3797	-12.3	-10.7
东北地区	442	345	-3.4	-4.6

表2 2023年1—3月份东中西部和东北地区房地产销售情况

地区	商品房销售面积		商品房销售额	
	绝对数 (万平方米)	同比增长 (%)	绝对数 (亿元)	同比增长 (%)
全国总计	29946	-1.8	30545	4.1
东部地区	12439	2.4	18013	9.3
中部地区	8326	-8.1	5988	-6.7
西部地区	8325	-3.2	5893	0.2
东北地区	856	22.6	650	18.4

107. 2022年1—3月份，中部地区房地产开发投资额较西部地区多（ ）亿元。

- A. 436
- B. 105
- C. - 436
- D. - 105

108. 2023年1—3月份，除东部地区之外的商品房销售额与去年同期相比增加：

- A. 5.6%
- B. 4.5%
- C. - 2.6%
- D. - 6.5%

109. 2023年1—3月份，商品房单价变化情况与全国一致的地区有（ ）个。

- A. 0
- B. 1
- C. 2
- D. 3

110. 2023年1—3月，东部地区商品房销售单价是去年同期的（ ）倍。

- A. 1. 15
- B. 1. 07
- C. 1. 26
- D. 1. 37

